



## CONCURSO PÚBLICO PREFEITURA MUNICIPAL DE CONTAGEM

### CARGO DE NÍVEL MÉDIO - AGENTE FAZENDÁRIO

#### INSTRUÇÕES GERAIS

- As orientações apresentadas neste caderno de provas e demais instruções feitas pelos organizadores são complementares ao Edital PMC Nº 002/2020 e retificações posteriores.
- A prova objetiva e a redação terão, no máximo, **6 (seis) horas de duração**, incluído o tempo destinado à transcrição nas Folhas de Respostas, únicos documentos válidos para correções, que não serão substituídos devido a quaisquer erros ou danos causados pelo candidato.
- A saída da sala de provas pelo candidato só será permitida após o período de sigilo, que é de **1 (uma) hora**, contado a partir do efetivo início das provas.
- Após entregar a prova, o candidato deverá se retirar imediatamente do local, não sendo autorizada nem mesmo a utilização de banheiro e bebedouro.
- Os 3 (três) últimos candidatos de cada sala somente poderão entregar as provas e retirar-se do local, simultaneamente, após assinatura do relatório de aplicação de provas.
- Confira seus dados pessoais na Folha de Respostas da Prova Objetiva, em especial seu nome e o número do documento de identificação, cadastrado no ato de inscrição.
- A Folha de Resposta da Redação está codificada eletronicamente. Confira se o código é correspondente ao que está expresso na Folha de Respostas da Prova Objetiva.
- Marque as Folhas de Respostas somente com caneta esferográfica de tinta azul ou preta, sob pena de impossibilidade de correção, processamento de resultado, atribuição de pontos ou anulação.
- Entregue ao aplicador as suas Folhas de Respostas, imprescindivelmente, ao término de realização.
- Este caderno contém:
  - 60 QUESTÕES DE MÚLTIPLA ESCOLHA, DA PROVA OBJETIVA**, assim distribuídas:
    - Língua Portuguesa: 12 questões (numeradas de 01 a 12);
    - Sistemas e Tecnologias de Informação: 10 questões (numeradas de 13 a 22);
    - Ética na Administração Pública: 5 questões (numeradas de 23 a 27);
    - Conhecimentos Gerais sobre o Município: 6 questões (numeradas de 28 a 33);
    - Noções de Direito (Administrativo e Constitucional): 15 questões (numeradas de 34 a 48);
    - Matemática e Lógica: 12 questões (numeradas de 49 a 60).
  - Cada questão apresenta **5 alternativas, de (a) a (e)**. Faça uma leitura atenta e responda a cada uma das questões.
- ORIENTAÇÕES PARA A REDAÇÃO:**
  - O candidato deverá produzir uma Redação, de acordo com o enunciado e as instruções expressos ao final deste caderno, e em uma extensão máxima de 30 (trinta) linhas para o texto, que deve ser escrito em língua portuguesa. O candidato receberá somente 01 (uma) folha para uso como rascunho.
  - O candidato não será avaliado por qualquer fragmento de texto que for escrito fora da Folha de Respostas da Redação ou que ultrapassar a extensão máxima permitida, salvo casos alheios, analisados e autorizados pela Coordenação do Concurso.
  - O candidato receberá nota zero ou será eliminado nos casos em que a Folha de Respostas da Redação:
    - estiver sem texto (em branco);
    - for escrita a lápis (em parte ou em sua totalidade), de forma ilegível e/ou incompreensível;
    - contiver qualquer tipo de termo, marca e/ou sinal que identifique ou pressuponha identificação ou alguma forma de comunicação; ou
    - quando não for devolvida, juntamente com as folhas para rascunho.
- Confira o seu caderno de provas e solicite ao aplicador as providências cabíveis, impreterivelmente, durante os primeiros **10 (dez) minutos do início da prova**, caso o caderno esteja:
  - divergente do cargo/da área/da função de sua inscrição; e/ou
  - incompleto em relação à distribuição de questões e composição de provas; e/ou
  - com algum defeito que impossibilite a conclusão das provas.
- Não destaque nenhuma folha deste caderno; não utilize a contracapa ou as margens como espaço para escrita. A folha de rascunho é de preenchimento facultativo.
- O candidato **NÃO** poderá levar o Caderno de Provas, após o período de sigilo, somente o rascunho do gabarito. Boa Prova!

**ATENÇÃO: FOLHA DE RESPOSTAS SEM ASSINATURA NÃO TEM VALIDADE**

A folha de respostas não deve ser dobrada, amassada ou rasurada

Nome do candidato

Por favor, abra somente quando autorizado.



O GABARITO E O CADERNO DE PROVAS SERÃO DIVULGADOS NO ENDEREÇO ELETRÔNICO:

[concurso.fundacaocefetminas.org.br](http://concurso.fundacaocefetminas.org.br)



## LÍNGUA PORTUGUESA

### LEIA ESTE TEXTO PARA RESPONDER ÀS QUESTÕES DE 1 A 10.

#### As utilíssimas coisas inúteis

Marina Colasanti, quinta-feira, 16 de janeiro de 2020

Fui a uma liquidação de fim de ano porque precisava trocar uma roupa que havia ganhado. E fiquei pasma com a quantidade de peças que cada um levava. Na demora da fila, as pessoas esticavam o braço para colher de arara ou prateleira uma bolsa, um cinto ou uma camiseta não vistos antes e acabavam ficando com ela. Tudo, mais que propriamente despertar desejo, era visto como um bom negócio. Afinal, os preços estavam em conta.

E ali mesmo me perguntei se aquela gente toda tiraria do armário o correspondente ao que estava levando, ou se apenas apertaria os cabides.

Compro muito pouco, mas tenho grande dificuldade para jogar fora. Acumulo. E embora tendo isenção profissional para acumular livros e papéis, não a tenho para o resto.

Calcula-se que um europeu ou americano possua em média 10 mil objetos. Para discutir consumismo e gênero no “The Pink and Blue Project”, a sul-coreana Jeongmee Yoon fotografou durante 10 anos crianças e adolescentes no seu quarto, com todos os seus objetos expostos. As fotos são surpreendentes, cada quarto parecendo um mercado.

Até hoje não consegui jogar fora a cama da minha cachorrinha que há três anos morreu, me parece ingrato, depois de tanto amor que ela me deu. Nem consegui me desfazer dos tecidos para quimono que comprei no Japão e nunca fiz, ou da camisa de seda que comprei na Índia e já não uso. Se uma calça fica larga, penso que posso voltar a engordar, se uma saia fica larga, aperto. Nunca nada ficou apertado, o que me faz crer que dificilmente engordarei. Às vezes consigo jogar fora suéteres que ficaram com “bolinhas”.

Dizem os neurocientistas que acumular é comando do nosso cérebro, possivelmente vindo de tempos remotíssimos em que a abundância era rara ou inexistente, e qualquer pedaço de carne, qualquer pele

de bicho, qualquer lasca de pedra era posse valiosa.

Hoje, os objetos de que nos rodeamos adquiriram outro sentido. Um deles é fazer parte da nossa identidade. Segundo o psicólogo Daniel Kahneman sofremos mais ao perder um objeto querido do que o prazer que tivemos ao adquiri-los – podemos imaginar o que sofreu Eike Batista ao perder a Lamborghini que, como um sofá, ficava estacionada na sala. Outro é dizer às multidões quem somos, qual o nosso patamar social.

É o que fazem alto e bom som as marcas. É a função do luxo.

Não compramos só em atendimento ao nosso desejo. Compramos também olhando pelos olhos dos outros, projetando nos olhos dos outros a imagem que teremos com nossas novas aquisições. Desse ponto de vista, quem compra muitas peças de roupa numa liquidação não está fazendo um bom negócio. Apesar do bom preço, está adquirindo o que já saiu de moda, o que se usou no ano anterior ou até mesmo no mês anterior. E tudo o que não é de hoje, é out.

Objetos podem ser inúteis, mas se dados com afeto temos dificuldade em nos desfazer deles. Xuxa tinha uma casa só para guardar memorabilia, presentes dados pelos fãs. Ninguém joga fora o bordado feito pela afilhada, o primeiro desenho do filho, a folha seca na página do livro dada pelo noivo. Os objetos tornam-se então não apenas objetos, mas testemunhos do passado que cantam aos nossos olhos. E por isso os guardamos.

Marie Kondo, a japonesa famosa pelo método MarieKondo de arrumação, não se orienta pela ligação psicológica entre os humanos e seus objetos. O interesse dela é na ordem e na estética. Mas ao limpar nossos armários e gavetas corre o risco de nos deixar despidos.

Disponível em: <<https://www.marinacolasanti.com/2020/02/expatriaram-o-gato.html>>. Acesso em: 17 fev. 2020.

## QUESTÃO 01

Nesse texto, Marina Colasanti explana, sobretudo, acerca do (a)

- a) obsessão dos brasileiros em gastar tudo o que ganham.
- b) compulsão por compras na sociedade contemporânea.
- c) costume de presentear as pessoas em épocas festivas.
- d) valor afetivo de coisas que são úteis para o cotidiano.
- e) hábito de guardar objetos cuja utilidade já se perdeu.

## QUESTÃO 02

O texto de Marina Colasanti pertence ao gênero

- a) conto.
- b) notícia.
- c) crônica.
- d) resenha.
- e) reportagem.

## QUESTÃO 03

“Calcula-se que um europeu ou americano possua em média 10 mil objetos.”

Esse fragmento é típico de sequências textuais do tipo

- a) poético.
- b) narrativo.
- c) injuntivo.
- d) expositivo.
- e) argumentativo.

## QUESTÃO 04

“Mas ao limpar nossos armários e gavetas **corre o risco de nos deixar despídos.**”

O trecho em destaque nesse período valeu-se da figura de linguagem denominada

- a) metáfora.
- b) metonímia.
- c) pleonasma.
- d) comparação.
- e) ambiguidade.

## QUESTÃO 05

“Não compramos só em atendimento ao nosso desejo. Compramos também olhando pelos olhos dos outros, projetando nos olhos dos outros a imagem que teremos com nossas novas aquisições.”

Interpreta-se corretamente e de forma global esse fragmento ao se concluir que a (o)

- a) sociedade impõe às pessoas o que elas devem comprar.
- b) consumo se pauta no autoconhecimento de quem compra.
- c) sociedade estimula os cidadãos a acumularem objetos inúteis.
- d) consumo considera a vontade e a imagem social de quem compra.
- e) sociedade oferece oportunidades de conscientização sobre o consumismo.

## QUESTÃO 06

“Até hoje não consegui jogar fora a cama da minha cachorrinha que há três anos morreu, **me**<sup>(1)</sup> parece ingratição, depois de tanto amor que ela **me**<sup>(2)</sup> deu. Nem consegui **me**<sup>(3)</sup> desfazer dos tecidos para quimono que comprei no Japão e nunca fiz, ou da camisa de seda que comprei na Índia e já não uso. Se uma calça fica larga, penso que posso voltar a engordar, se uma saia fica larga, aperto. Nunca nada ficou apertado, o que **me**<sup>(4)</sup> faz crer que dificilmente engordarei. Às vezes consigo jogar fora suéteres que ficaram com ‘bolinhas’.”

Nesse fragmento, dentre as ocorrências do pronome “me” destacadas e numeradas estão de acordo com a norma-padrão as de número

- a) (1) e (2).
- b) (1) e (3).
- c) (2) e (3).
- d) (2) e (4).
- e) (3) e (4).

## QUESTÃO 07

“Os objetos tornam-se então<sup>(1)</sup> não apenas<sup>(2)</sup> objetos, mas<sup>(3)</sup> testemunhos do passado que cantam aos nossos olhos. E<sup>(4)</sup> por isso<sup>(5)</sup> os guardamos.”

Por ser sinônimo e por preservar o sentido do contexto, o conector que poderia ser substituído por “unicamente” foi destacado e numerado em

- a) (1).
- b) (2).
- c) (3).
- d) (4).
- e) (5).

## QUESTÃO 08

“Xuxa tinha uma casa só para guardar memorabilia [...]”

Esse período contém uma oração subordinada adverbial introduzida por uma conjunção cujo sentido é de

- a) causa.
- b) tempo.
- c) condição.
- d) finalidade.
- e) proporção.

## QUESTÃO 09

“Marie Kondo, a japonesa famosa pelo método MarieKondo de arrumação, não se orienta pela ligação psicológica entre os humanos e seus objetos.”

Nesse período, as vírgulas são utilizadas para

- a) realçar o vocativo.
- b) intercalar uma explicação.
- c) assinalar a omissão do verbo.
- d) marcar uma inversão sintática.
- e) separar elementos coordenados.

## QUESTÃO 10

“Compro<sup>(1)</sup> muito pouco, mas tenho<sup>(2)</sup> grande dificuldade para jogar fora. Acumulo<sup>(3)</sup>. E embora tendo<sup>(4)</sup> isenção profissional para acumular livros e papéis, não a tenho<sup>(5)</sup> para o resto.”

Todas as formas verbais destacadas e numeradas estão flexionadas no presente do indicativo, **EXCETO**

- a) (1).
- b) (2).
- c) (3).
- d) (4).
- e) (5).

## LEIA ESTE TEXTO PARA RESPONDER ÀS QUESTÕES 11 E 12.

### Cantiga para não Morrer

Quando você for embora,  
moça branca como a neve,  
me leve.

Se acaso você não possa  
me carregar pela mão,  
menina branca de neve,  
me leve no coração.

Se no coração não possa  
por acaso me levar,  
moça de sonho e de neve,  
me leve no seu lembrar.

E se aí também não possa  
por tanta coisa que leve  
já viva em seu pensamento,  
menina branca de neve,  
me leve no esquecimento.

GULLAR, Ferreira. **Obra poética**. Vila Nova de Famalicão: Quasi, 2003. p. 248.

## QUESTÃO 11

Esse poema expressa, sobretudo, o desejo do eu lírico de

- a) acreditar que a moça branca de neve voltará para ele um dia.
- b) permanecer na vida da moça branca de neve de alguma forma.
- c) viver a paixão pela menina branca de neve antes que ela vá embora.
- d) superar o sofrimento provocado pela perda da moça branca de neve.
- e) lutar para que a menina branca de neve fique ao seu lado para sempre.

## QUESTÃO 12

O primeiro verso da segunda, terceira e quarta estrofes desse poema é composto por uma oração subordinada adverbial

- a) temporal.
- b) concessiva.
- c) condicional.
- d) consecutiva.
- e) conformativa

## SISTEMAS E TECNOLOGIA DE INFORMAÇÃO

### QUESTÃO 13

Considere que a seguinte planilha foi elaborada no *Microsoft Excel* 2016 instalado em um computador.

	A	B
1	1	8
2	3	6
3	5	4
4	7	2
5		

Ao inserir a fórmula **=MÉDIASE(B1:B4;">4";A1:A4)** na célula B5, o valor retornado será

- a) 2
- b) 3
- c) 4
- d) 6
- e) 7

## QUESTÃO 14

No *Microsoft Excel*, instalado em um computador, a data atual (dia, mês e ano) pode ser exibida utilizando-se a fórmula

- a) =hoje( )
- b) =atual( )
- c) =data.hoje( )
- d) =data.atual( )
- e) =hoje.data( )

## QUESTÃO 15

O programa malicioso que torna inacessíveis os dados armazenados em um equipamento, geralmente usando criptografia, e que exige pagamento de resgate para restabelecer o acesso ao usuário é denominado

- a) *Spam*.
- b) *Adware*.
- c) *Keylogger*.
- d) *Screenlogger*.
- e) *Ransomware*.

## QUESTÃO 16

Para verificar a integridade de um arquivo armazenado em seu computador ou em seus *backups*, pode-se utilizar o método (algoritmo) de *hash*

- a) SSL.
- b) MD5.
- c) HTTP.
- d) HTTPS.
- e) *Firewall*.

## QUESTÃO 17

Certificados digitais podem ser utilizados na troca de informação entre pessoas na internet.

São dados que compõem um certificado digital, **EXCETO** o (a)

- a) número de série do certificado.
- b) código de integridade do *software* de criptografia.
- c) identificação da pessoa que é dona do certificado.
- d) identificação da autoridade certificadora emissora do certificado.
- e) assinatura digital da autoridade certificadora emissora do certificado.

## QUESTÃO 18

A respeito dos componentes do computador e seus periféricos, julgue as afirmações a seguir como verdadeiras (V) ou falsas (F).

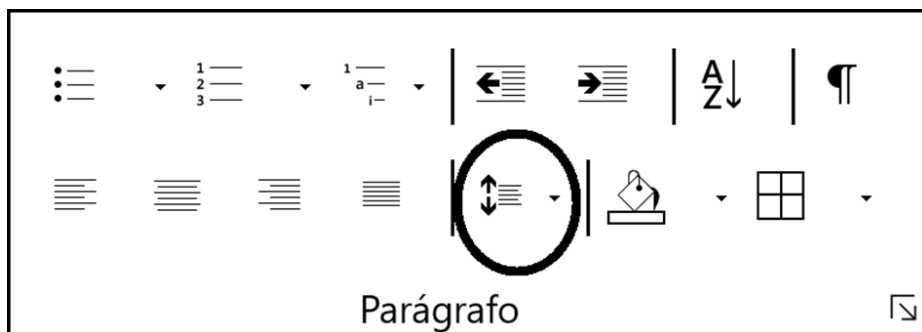
- ( ) Gabinete e CPU são nomes distintos que se referem ao mesmo componente do computador.
- ( ) Gabinete e placa-mãe são nomes distintos que se referem ao mesmo componente do computador.
- ( ) Portas USB servem para a instalação de dispositivos externos, tais como câmeras digitais, discos rígidos externos e teclados.

A sequência correta é

- a) V, V, F.
- b) V, F, V.
- c) F, F, F.
- d) F, F, V.
- e) F, V, F.

## QUESTÃO 19

A imagem a seguir apresenta os botões do grupo Parágrafo, localizado na guia Página Inicial do *Microsoft Word* 2016.



O botão destacado na imagem permite

- a) centralizar, na página, o texto selecionado.
- b) aumentar ou diminuir o recuo dos parágrafos.
- c) ajustar as margens inferior e superior da página.
- d) escolher o espaçamento entre as linhas do texto.
- e) colocar a lista de marcadores em ordem alfabética.



## QUESTÃO 20

Preencha as lacunas do texto a seguir supondo que o *Windows 10* esteja instalado no disco rígido de um computador.

Para verificar o espaço no disco rígido, no qual o *Windows 10* está instalado, abra o \_\_\_\_\_ e, em seguida, selecione \_\_\_\_\_ à esquerda. O espaço disponível no disco aparecerá em \_\_\_\_\_.

Os termos que preenchem corretamente as lacunas são, respectivamente,

- a) Painel de Controle / *Hardware* / Dispositivos e unidades
- b) Painel de Controle / *Hardware* / Dispositivos de armazenamento
- c) Explorador de Arquivos / Este Computador / Dispositivos e unidades
- d) Painel de Controle / Este Computador / Dispositivos de armazenamento
- e) Explorador de Arquivos / Acesso rápido / Dispositivos de armazenamento

## QUESTÃO 21

O *Windows 10* permite personalizar a Barra de Tarefas, alterando seu local e o tamanho dos botões, por exemplo. Para abrir a janela por meio da qual pode-se personalizar a Barra de Tarefas, clique com o botão direito do *mouse* em qualquer espaço vazio na Barra de Tarefas e, em seguida, clique com o botão esquerdo do *mouse* em

- a) Abrir.
- b) Propriedades.
- c) Configurações.
- d) Propriedades da Barra de Tarefas.
- e) Configurações da Barra de Tarefas.

## QUESTÃO 22

No *Microsoft Word 2016*, instalado em um computador, um documento texto pode ser fechado pressionando-se a combinação de teclas

- a) Alt+F
- b) Alt+W
- c) Ctrl+F
- d) Ctrl+S
- e) Ctrl+W

## ÉTICA NA ADMINISTRAÇÃO PÚBLICA

### QUESTÃO 23

Segundo o disposto no artigo 37, *caput*, da Constituição da República de 1988, a administração pública direta e indireta de qualquer dos Poderes da União, dos Estados, do Distrito Federal e dos Municípios obedecerá aos princípios a seguir, **EXCETO**:

- a) Legalidade.
- b) Publicidade.
- c) Eficiência.
- d) Moralidade.
- e) Igualdade.

### QUESTÃO 24

Segundo o disposto na Lei nº 2.160, de 20 de dezembro de 1990, Estatuto dos Servidores Públicos do Município de Contagem, é dever do servidor público

- a) atender com presteza ao público em geral, prestando as informações requeridas, ressalvadas as protegidas por sigilo.
- b) valer-se do cargo para lograr proveito pessoal ou de outrem, em detrimento da dignidade da função pública.
- c) guardar sigilo quando tiver ciência de ato ilegal ou que represente abuso de poder.
- d) recusar fé a documentos públicos.
- e) proceder de forma desidiosa.

### QUESTÃO 25

A respeito da transparência e do acesso à informação na administração pública brasileira, é correto afirmar que

- a) as entidades privadas sem fins lucrativos do Terceiro Setor que recebem dinheiro público não estão incluídas nas políticas públicas e normas que tratam da transparência e acesso à informação.
- b) a lei de acesso à informação impede que o cidadão verifique se o dinheiro público está sendo aplicado na realização do interesse público e na promoção dos direitos fundamentais.
- c) a equivocada visão da publicidade e a falta de clareza na gestão dos recursos públicos foram exterminadas em decorrência do texto constitucional.
- d) a transparência na gestão pública é uma possibilidade e não uma constituição indispensável.
- e) o controle social envolve a transparência na administração pública.



## QUESTÃO 26

Com base no quadro a seguir analise as asserções e a relação proposta entre elas.

<i>Relações entre ética, moral e moralidade</i>		
A ética	Plano conceitual	Não normativa
A moral	Plano ideal	Normativa
A moralidade	Plano real	Factual

Fonte: RODRIGUES, Z. A. L. *Ética na gestão pública*. São Paulo: InterSaberes, p. 33, 2016. (Adaptado)

I - A ética é definida como condição-teórico-reflexiva, em conjunto com sua condição histórico-social e não determinística, relacionada à sua condição valorativa e humana

### PORQUE

II - a ética trata do que é preciso fazer por meio de um conjunto de princípios e prescrições que se destinam a assegurar a vida em comum de forma justa e harmônica.

Considerando-se as asserções (I) e (II), é correto afirmar que

- a) as duas são falsas.
- b) a primeira é falsa e a segunda é verdadeira.
- c) a primeira é verdadeira e a segunda é falsa.
- d) as duas são verdadeiras e a segunda justifica a primeira.
- e) as duas são verdadeiras, mas a segunda não justifica a primeira.

## QUESTÃO 27

A respeito dos temas da ética e da moralidade, é correto afirmar:

- a) Ética e moralidade tratam de temas subjetivos e não alcançam aplicação prática na vida dos cidadãos.
- b) Temáticas relativas à moralidade já foram superadas, não fazendo parte da área de interesse da filosofia ou da administração pública.
- c) A moralidade não possui características públicas sendo sempre analisada sob o ponto de vista privado.
- d) A moralidade pode ser analisada a partir dos conceitos de moralidade pública e da moralidade privada.
- e) A moralidade é um princípio não expresso na legislação e, portanto, de difícil aplicação.

## CONHECIMENTOS GERAIS SOBRE O MUNICÍPIO

### QUESTÃO 28

Implantada na década de 1940, a Cidade Industrial de Contagem foi um marco no processo de desenvolvimento local, concentrando ramos tradicionais da indústria, tais como metalurgia, indústria mecânica e exploração de minerais não metálicos.

Paralelamente, apesar de todo o planejamento, a criação da Cidade Industrial, na prática, também apresentou problemas, como a

- a) umidade relativa do ar abaixo do ideal e a insuficiência de áreas arborizadas.
- b) animosidade dos estratos populacionais intermediários e não remunerados.
- c) precariedade dos serviços urbanos básicos das vilas e dos bairros operários.
- d) insalubridade das residências dos donos das principais empresas e fábricas.
- e) transitoriedade da obtenção exponencial de lucros e da captação tributária.

## QUESTÃO 29

As origens de Contagem remontam ao século XVIII, quando exploradores identificaram pedras e metais preciosos na região que ficaria conhecida como Capitania das Minas Gerais.

Considerando-se esta história centenária, que chega aos dias atuais, avalie as afirmações sobre os aspectos históricos, culturais e político-administrativos do Município de Contagem - MG.

I - Em 1938, Contagem perdeu sua autonomia político-administrativa, tornando-se distrito de Betim.

II - Somente no ano de 1950 foi instalado o Município de Contagem, abrangendo a Sede e mais cinco distritos.

III - Durante o período colonial, Contagem pertenceu à Comarca do Rio das Velhas, que tinha como sede a vila de Sabará.

IV - Ao longo de duzentos anos, de 1701 a 1901, Contagem esteve ligada ao Arraial do Curral del Rei e, posteriormente, à freguesia de Sabará.

V - Herdeira de crenças, práticas e símbolos de gerações passadas, a Comunidade dos Arturos festeja a memória da abolição da escravidão e a fé em Nossa Senhora do Rosário.

Está correto **apenas** o que se afirma em

- a) I, II e V.
- b) I, III e V.
- c) I, II e IV.
- d) II, III e V.
- e) II, III e IV.

## QUESTÃO 30

Leia o trecho a seguir.

“O primeiro grande movimento operário contra a política econômica da ditadura aconteceu em Contagem. A greve começou no dia 16 de abril de 1968, numa seção da companhia Belgo-Mineira, e atingiu 1200 operários. O movimento ganhou rapidamente o conjunto dos trabalhadores e adotou como forma de pressão a ocupação da fábrica.”

PREFEITURA MUNICIPAL DE CONTAGEM – MG. “Atlas escolar, histórico, geográfico e cultural do Município de Contagem, Minas Gerais.” Contagem MG: Prefeitura Municipal de Contagem/Acervo Cultural Brasileiro LTDA, 2009, p. 30-31.

Um dos principais resultados obtidos pelo referido movimento foi a

- a) ampliação do valor do salário de trabalhadores.
- b) participação no lucro das empresas em atividade.
- c) estabilização do processo inflacionário de carestia.
- d) concessão de férias remuneradas aos colaboradores.
- e) adesão de parte da força repressiva às reivindicações.

## QUESTÃO 31

Com quase 700 mil habitantes, Contagem é um dos cinco municípios mais populosos de Minas Gerais e ocupa posição de destaque na economia do Estado.

Informe se é verdadeiro (V) ou falso (F) o que se refere ao perfil geográfico, administrativo e econômico do Município de Contagem – MG.

( ) Contagem faz parte da bacia hidrográfica do rio Paraná, contando com afluentes como o rio Grande e o rio das Mortes.

( ) Concluída em 1974, a barragem de Vargem das Flores forma um reservatório de água com a finalidade de abastecimento público.

( ) Em anos recentes o setor da economia que mais tem gerado empregos formais em Contagem é o de indústria, seguido pelo setor de serviços e comércio.

( ) O Município de Contagem possui oito regiões administrativas, tais como Sede, Eldorado, Riacho, Industrial, Ressaca, Nacional, Petrolândia e Vargem das Flores.


( ) Contagem faz parte de uma próspera rede urbana, contando com municípios vizinhos, como Belo Horizonte, Betim, Esmeraldas, Ibirité e Ribeirão das Neves.

De acordo com as afirmações, a sequência correta é

- a) V, F, F, V, F.
- b) F, V, F, F, V.
- c) V, F, V, F, V.
- d) F, V, F, V, V.
- e) F, V, V, V, V.

## QUESTÃO 32

Observe a imagem a seguir.



PREFEITURA MUNICIPAL DE CONTAGEM – MG. “Atlas escolar, histórico, geográfico e cultural do Município de Contagem, Minas Gerais.” Contagem MG: Prefeitura Municipal de Contagem/Acervo Cultural Brasileiro LTDA, 2009, p. 7.

Criado pela Lei nº 499, de 23 de maio de 1963, o referido brasão apresenta, oficialmente, diferentes aspectos, representativos da identidade do Município de Contagem, tais como a

- a) fé religiosa, a indústria e a agricultura.
- b) convicção racional, a astronomia e a oficina.
- c) laicidade, a abóbada celeste e o paisagismo.
- d) crença espiritual, a agropecuária e o comércio.
- e) secularidade, a origem espanhola e a arborização.

## QUESTÃO 33

Preencha corretamente as lacunas do texto a seguir no que se refere às características históricas do Município de Contagem – MG.

“De sua origem agropastoril e de ponto de registro de \_\_\_\_\_, a cidade passa a sediar, nos anos \_\_\_\_\_, o \_\_\_\_\_. Estes dois polos territoriais e sociopolíticos são norteadores da história do município, que adquiriu sua forma atual a partir de \_\_\_\_\_, com o crescimento \_\_\_\_\_, que provocou uma migração intensa do \_\_\_\_\_ do Estado para a Capital, Belo Horizonte, e suas imediações.”

PREFEITURA MUNICIPAL DE CONTAGEM – MG. “Atlas escolar, histórico, geográfico e cultural do Município de Contagem, Minas Gerais.” Contagem MG: Prefeitura Municipal de Contagem/Acervo Cultural Brasileiro LTDA, 2009, p. 11-12.

- a) produtos naturais / 1920 / setor comercial da região / 1930 / financeiro / norte
- b) transações comerciais / 1900 / polo cimenteiro de Minas / 1950 / industrial / sul
- c) bens manufaturados / 1910 / agrupamento operário do Brasil / 1980 / cultural / leste
- d) cobranças tributárias / 1980 / parque automobilístico do país / 1990 / demográfico / exterior
- e) mercadorias valiosas / 1940 / complexo industrial do Estado / 1960 / econômico / interior

## NOÇÕES DE DIREITO (ADMINISTRATIVO E CONSTITUCIONAL)

### QUESTÃO 34

O princípio que se caracteriza pela iniciativa de ação atribuída à própria Administração para a revisão de seus próprios atos, possibilitando aos próprios órgãos administrativos fazê-los *ex officio*, usando sua auto-executoriedade, sem depender necessariamente de que alguém o solicite, denomina-se

- a) eficiência.
- b) autotutela.
- c) finalidade.
- d) motivação.
- e) razoabilidade.

### QUESTÃO 35

Avalie as afirmações a seguir sobre os princípios da administração pública.

I - A reserva legal visa garantir a necessidade de estabilização das relações jurídicas, no intuito de se evitar temores e incertezas para os administrados e o administrador (Estado).

II - A moralidade administrativa não comporta juízos de valor elásticos, uma vez que a Constituição Federal dispõe sobre o conceito de "moral administrativa" de forma expressa.

III - A publicidade visa não apenas dar divulgação aos atos procedimentais e processuais da Administração, como também propiciar aos administrados o controle da legitimidade das condutas dos agentes administrativos.

IV - A aplicação constitucional da impessoalidade é refletida pela realização de concursos públicos para o ingresso nos cargos públicos.

Está correto **apenas** o que se afirma em

- a) I e II.
- b) II e III.
- c) III e IV.
- d) I, III e IV.
- e) I, II e IV.

### QUESTÃO 36

Analise as asserções a seguir e a relação proposta entre elas.

I - O princípio da razoabilidade impõe à administração pública a adequação entre meios e fins, não permitindo a imposição de obrigações, restrições e sanções em medida superior àquelas estritamente necessárias ao atendimento do interesse público

#### PORQUE

II - o modo de atuação do agente público, do qual se espera o melhor desempenho de suas funções, visando alcançar os melhores resultados e com o menor custo possível, decorre diretamente do princípio da razoabilidade.

A respeito das asserções é correto afirmar que

- a) as duas são falsas.
- b) a primeira é falsa e a segunda é verdadeira.
- c) a primeira é verdadeira e a segunda é falsa.
- d) as duas são verdadeiras e a segunda justifica a primeira.
- e) as duas são verdadeiras, mas a segunda não justifica a primeira.

### QUESTÃO 37

Sobre a administração pública, avalie as afirmações a seguir e informe (V) para as verdadeiras e (F) para as falsas.

( ) As entidades políticas são pessoas jurídicas de direito público interno, como a União, os Estados, o Distrito Federal e os Municípios. Já as entidades administrativas integram a administração pública, mas não têm autonomia política, como as autarquias e as fundações públicas.

( ) O Executivo, o Legislativo, o Judiciário e o Ministério Público são poderes do Estado.

( ) O Estado desenvolve suas atividades administrativas por si mesmo, podendo transferi-las a particulares e também criar outras pessoas jurídicas, com personalidade jurídica de direito público ou privado, para desempenhá-las.

( ) Quando o Estado cria uma entidade e a ela transfere, por lei, determinado serviço público ocorre a descentralização por meio de outorga.

A sequência correta é

- a) V, F, V, V.
- b) V, F, V, F.
- c) F, V, F, V.
- d) F, V, F, F.
- e) F, F, V, V.

### QUESTÃO 38

O poder regulamentar da Administração se fundamenta em

- a) editar normas complementares à lei, visando a sua fiel execução.
- b) organizar a atividade administrativa, inclusive com a vocação de competências e criação de órgãos.
- c) determinar limitações à atuação de particulares, em benefício da coletividade, nos limites da lei.
- d) exercer o controle da atividade de órgãos inferiores, dando ordem a subordinados e verificando a legalidade dos atos praticados.
- e) averiguar a ocorrência de infrações e aplicar eventuais penalidades aos servidores públicos e particulares que se relacionam juridicamente com a Administração.

### QUESTÃO 39

Sobre a responsabilidade do servidor público, é **INCORRETO** afirmar que

- a) as sanções civis, penais e administrativas a ele aplicadas são independentes entre si, portanto, não poderão se cumular.
- b) ele responderá perante a Fazenda Pública, em ação regressiva, tratando-se de dano causado a terceiros.
- c) a obrigação de reparar o dano estende-se aos sucessores e contra eles será executada, até o limite do valor da herança recebida.
- d) a responsabilidade civil decorre de ato omissivo ou comissivo, doloso ou culposos, que resulte em prejuízo ao erário ou a terceiros.
- e) a responsabilidade administrativa será afastada no caso de absolvição criminal que negue a existência do fato ou sua autoria.

### QUESTÃO 40

Avalie as afirmações a seguir sobre o regime dos servidores públicos.

I - A investidura em cargo público pode ocorrer com a posse ou com a nomeação.

II - Os cargos públicos, acessíveis a todos os brasileiros, são criados por lei, com denominação própria e vencimento pago pelos cofres públicos, para provimento em caráter efetivo ou em comissão.

III - O servidor estável só perderá o cargo em virtude de sentença judicial transitada em julgado ou de processo administrativo disciplinar no qual lhe seja assegurada ampla defesa.

IV - As disposições da Consolidação das Leis do Trabalho (CLT) deverão ser observadas além do estatuto legal específico, no tocante aos direitos e deveres dos servidores.

Está correto **apenas** o que se afirma em

- a) I e II.
- b) I e IV.
- c) II e III.
- d) III e IV.
- e) I, II e III.

## QUESTÃO 41

Sobre o poder de polícia, avalie as afirmações a seguir e informe (V) para as verdadeiras e (F) para as falsas.

( ) A discricionariedade, a autoexecutoriedade e a coercibilidade são consideradas seus atributos.

( ) A Administração poderá implantar preço público em razão do exercício do poder de polícia.

( ) A fiscalização praticada por agentes administrativos em parques florestais é considerada uma aplicação prática do poder de polícia.

( ) O poder de polícia se baseia precipuamente no princípio da proporcionalidade, pois a administração toma suas decisões e as faz serem cumpridas por seus próprios meios.

A sequência correta é

- a) V, F, V, V.
- b) V, F, V, F.
- c) F, V, F, V.
- d) F, V, F, F.
- e) F, F, V, V.

## QUESTÃO 42

**NÃO** constitui (em) objetivo (s) fundamental (ais) da República Federativa do Brasil

- a) erradicar a pobreza e a marginalização e reduzir as desigualdades sociais e regionais.
- b) construir uma sociedade livre, justa e solidária.
- c) favorecer a cooperação entre os povos para o progresso da humanidade.
- d) garantir o desenvolvimento nacional.
- e) promover o bem de todos, sem preconceitos de origem, raça, sexo, cor, idade e quaisquer outras formas de discriminação.

## QUESTÃO 43

Sobre os direitos sociais previstos na Constituição de 1988, é **INCORRETO** afirmar que

- a) o fundo de garantia do tempo de serviço é direito dos trabalhadores urbanos e rurais.
- b) a remuneração do trabalho noturno deve ser superior à do diurno.
- c) é assegurado ao trabalhador proteção em face da automação, na forma da lei.
- d) é assegurado ao trabalhador o repouso semanal remunerado, obrigatoriamente aos domingos.
- e) é assegurado ao trabalhador o seguro-desemprego, em caso de desemprego involuntário.

## QUESTÃO 44

De acordo com a Constituição de 1988, é **INCORRETO** afirmar:

- a) É livre o exercício de qualquer trabalho, ofício ou profissão, atendidas as qualificações profissionais que a lei estabelecer.
- b) É plena a liberdade de associação para fins lícitos, vedada a de caráter paramilitar.
- c) É garantido o direito de propriedade.
- d) A lei não excluirá da apreciação do Poder Judiciário lesão ou ameaça a direito.
- e) O direito de petição aos Poderes Públicos em defesa de direitos é condicionado ao pagamento de taxas.

## QUESTÃO 45

De acordo com a Constituição de 1988 é **INCORRETO** o que se afirma em:

- a) A lei não poderá estabelecer distinção entre brasileiros natos e naturalizados, salvo nos casos previstos na Constituição.
- b) São símbolos da República Federativa do Brasil a Bandeira, o Hino, as Armas e o Selo nacionais.
- c) São brasileiros natos os nascidos na República Federativa do Brasil, ainda que de pais estrangeiros, desde que estes não estejam a serviço de seu país.
- d) O cargo de Presidente do Supremo Tribunal Federal é privativo de brasileiro nato.
- e) O alistamento eleitoral e o voto são facultativos para os maiores de sessenta anos.



## QUESTÃO 46

De acordo com a Constituição de 1988, é correto afirmar que

- a) os cargos, empregos e funções públicas não são acessíveis aos estrangeiros.
- b) o servidor público civil não tem direito à livre associação sindical.
- c) são estáveis, após dois anos de efetivo exercício, os servidores nomeados para cargo de provimento efetivo em virtude de concurso público.
- d) os vencimentos dos cargos do Poder Legislativo e do Poder Judiciário não poderão ser superiores aos pagos pelo Poder Executivo.
- e) a Constituição veda a contratação por tempo determinado pela Administração Pública.

## QUESTÃO 47

Sobre a Organização dos Poderes, é **INCORRETO** afirmar que

- a) o Senado Federal compõe-se de representantes dos Estados e do Distrito Federal, eleitos segundo o princípio majoritário.
- b) cada Estado e o Distrito Federal elegerão três senadores, com mandato de oito anos.
- c) cada senador será eleito com um suplente.
- d) a Câmara dos Deputados compõe-se de representantes do povo, eleitos pelo sistema proporcional em cada Estado, em cada Território e no Distrito Federal.
- e) cada legislatura terá a duração de quatro anos.

## QUESTÃO 48

Sobre o Processo Legislativo Constitucional é correto afirmar:

- a) A Constituição poderá ser emendada mediante proposta de um terço, no mínimo, dos membros da Câmara dos Deputados e do Senado Federal.
- b) A Constituição não poderá ser emendada na vigência de intervenção federal, de estado de defesa ou de estado de sítio.
- c) É vedada a edição de medidas provisórias que implique instituição ou majoração de impostos.
- d) A matéria constante de proposta de lei complementar rejeitada ou havida por prejudicada não pode ser objeto de nova proposta na mesma sessão legislativa.

- e) A discussão e a votação dos projetos de lei de iniciativa do Presidente da República terão início no Senado Federal.

## MATEMÁTICA E LÓGICA

### QUESTÃO 49

Uma pessoa estava na rua esperando o seu amigo para sair e, a fim de passar o tempo, resolveu contar quantos carros de marcas específicas passariam naquele local em um determinado intervalo de tempo, chegando à seguinte anotação:

Marca do Veículo	Quantitativo
A	4
B	12
C	21
D	24
E	39

Em relação à distribuição do quantitativo das marcas observadas, é correto **apenas** o que se afirma em:

- a) A moda é igual a 12.
- b) A moda é igual a 24.
- c) A moda é igual a 39.
- d) A mediana é igual a 4.
- e) A mediana é igual a 21.

### QUESTÃO 50

Uma empresa possui dez funcionários, entre eles Carlos e Beatriz, e precisa selecionar uma comissão com quatro desses funcionários para viajarem a uma feira de negócios. Entretanto, é necessário que ao menos um deles, Carlos ou Beatriz, fique na empresa e, assim, não sejam escolhidos juntos para essa viagem.

Desse modo, considerando-se essa situação, o número de comissões diferentes com seus funcionários que a empresa pode organizar para ir à feira de negócios é

- a) 45.
- b) 112.
- c) 165.
- d) 182.
- e) 210.



## QUESTÃO 51

Um líquido foi colocado em um funil com o formato de um cone circular reto e altura igual a 16 cm, ocupando  $\frac{1}{8}$  do volume desse funil. O líquido deverá ser todo escoado para um cilindro, cujo raio da base é igual a um terço do raio da base do funil.

Analise as afirmações a seguir.

I - O volume desse cilindro será  $\frac{1}{3}$  do volume desse funil, independente da altura de cada um deles.

II - Se a altura do cilindro for menor que 6 cm, o líquido transbordará.

III - Para que o cilindro e o funil tenham o mesmo volume, a altura do cilindro deve ser  $\frac{1}{9}$  da altura do funil.

Está correto **apenas** o que se afirma em

- a) I.
- b) II.
- c) I e II.
- d) I e III.
- e) II e III.

## QUESTÃO 52

Uma criança chuta, a partir do chão, em uma superfície plana, uma bola cuja trajetória  $H$  é descrita em função do tempo  $t$ , em segundos, pelo gráfico da função real  $H(t) = -\frac{2}{5}t^2 + \frac{8}{5}t$ , sendo  $H(t)$  medida em metros.

Nessas condições, é correto afirmar que

- a) a bola atinge uma altura maior que 5 metros.
- b) a altura máxima atingida pela bola é quando  $t=3s$ .
- c) após o chute, a bola retorna ao chão 4 segundos depois.
- d) a altura da bola em  $t=3s$  é maior que a altura da bola em  $t=2s$ .
- e) a altura da bola decresce, em função do tempo, para  $t \in ]0,2[$ .

## QUESTÃO 53

Uma pessoa produzia queijos no formato cilíndrico com altura de 20 cm utilizando, para isso, exatos 10 litros de leite. Na tentativa de diversificar, a produção alterou o seu produto, diminuindo a altura do queijo, e somente essa medida, para exatos 17,4 cm com o ajuste proporcional de todos os ingredientes de sua receita.

Assim, a quantidade exata de leite utilizada na fabricação de cada queijo, em litros, passou a ser igual a

- a) 8,7.
- b) 8,8.
- c) 8,9.
- d) 9,0.
- e) 9,1.

## QUESTÃO 54

A secretária de um médico precisa agendar uma consulta de retorno para um dos seus pacientes, que deve ocorrer em exatos 135 dias, contados a partir da data do agendamento, realizado numa quarta-feira.

Assim, a consulta de retorno acontecerá em uma

- a) segunda-feira.
- b) terça-feira.
- c) quarta-feira.
- d) quinta-feira.
- e) sexta-feira.

## QUESTÃO 55

Considere verdadeiras as seguintes proposições:

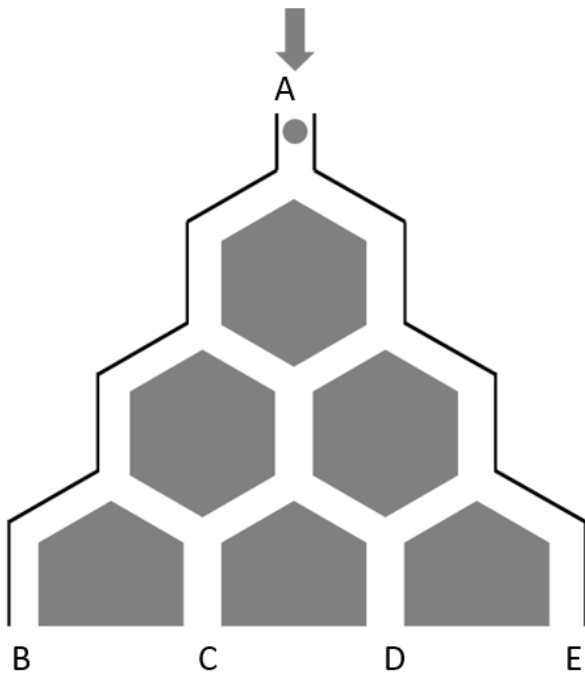
- Alguns mineiros não são pesquisadores.
- Todo professor é pesquisador.

A partir dessas proposições, é correto afirmar que é necessariamente verdadeiro que

- a) todo mineiro é professor.
- b) nenhum professor é mineiro.
- c) algum não pesquisador é professor.
- d) alguns mineiros não são professores.
- e) é falso que os professores são pesquisadores.

### QUESTÃO 56

Observe a figura a seguir.



A figura representa um sistema de caminhos, onde uma bola é solta no ponto A e desce até uma das saídas B, C, D ou E. Em cada bifurcação a bola desce em qualquer um dos lados, com igual probabilidade para cada um.

Assim, a probabilidade da bola finalizar o trajeto percorrido no ponto C é

- a) menor que 26%.
- b) entre 26% e 35%.
- c) entre 35% e 40%.
- d) entre 40% e 51%.
- e) maior que 51%.

### QUESTÃO 57

Considere que, em uma pesquisa eleitoral, a margem de erro seja inversamente proporcional à raiz quadrada do tamanho da amostra da população em estudo.

Assim, supondo que a margem de erro seja de 3% quando são entrevistados 1 600 eleitores, para que a margem de erro seja de 2% a quantidade de eleitores entrevistados deve ser igual a

- a) 720.
- b) 1 800.
- c) 2 400.
- d) 2 800.
- e) 3 600.

### QUESTÃO 58

Uma pessoa comprou uma mercadoria no valor de R\$ 1.600,00 em um *site* de compras. Ao selecionar a forma de pagamento escolheu a opção de duas prestações (com vencimento em 30 e 60 dias, a contar da data da compra), a uma taxa mensal de juros de 9%.

Sabendo-se que o valor da primeira prestação foi de R\$ 872,00, esta pessoa pagará na segunda prestação o valor de R\$

- a) 872,00.
- b) 887,69.
- c) 891,62.
- d) 911,24.
- e) 950,48.

### QUESTÃO 59

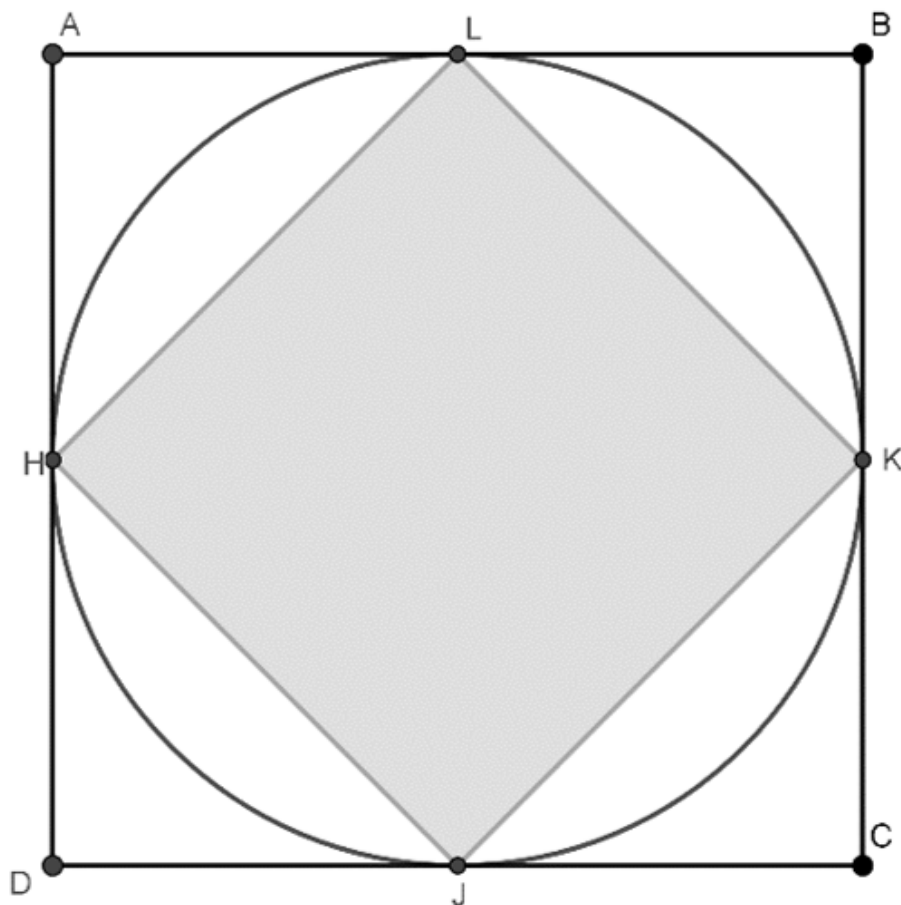
De um grupo de 20 pessoas, 13 possuem automóvel e 16 possuem casa própria.

Sendo assim, é correto afirmar que a quantidade de pessoas desse grupo que possuem automóvel e casa própria é

- a) no mínimo igual a 9.
- b) no máximo igual a 9.
- c) no mínimo igual a 11.
- d) exatamente igual a 9.
- e) exatamente igual a 11.

### QUESTÃO 60

De um pedaço quadrado de uma lâmina de metal será cortado um pedaço circular de área máxima e deste será cortado um quadrado HJKL também de área máxima, conforme ilustra a figura.



O quadrado HJKL será usado para um determinado revestimento e os demais pedaços serão descartados. Nesse sentido, é correto afirmar que a área total do metal descartado corresponde a

- a) 15% da área da parte circular.
- b) 25% da área da parte circular.
- c) 50% da área da parte circular.
- d) 50% da área do quadrado original.
- e) 75% da área do quadrado original.

# REDAÇÃO

Para elaborar a redação leia os textos a seguir.

## TEXTO I

O tema da burocracia é amplamente presente nas discussões sobre Administração Pública. A charge seguinte baseia-se no entendimento popular de burocracia.



Fonte: <https://www.umsabadoqualquer.com/?s=burocracia>. Acesso em 10/10/22.

## TEXTO II

Matias-Pereira (2018) explica que o tema da burocracia remete aos estudos de Max Weber (1864-1920), considerado um dos grandes pensadores da sociologia moderna. Segundo o autor, a burocracia *weberiana* refere-se tanto a um modelo organizacional e administrativo, quanto a uma forma de dominação. Em linhas gerais, ela “pode ser definida como um sistema de controle social baseado na racionalidade – adequação dos meios para se alcançar os fins –, tendo como referência a eficiência para alcançar os resultados esperados” (p. 61-62).

## TEXTO III

O quadro a seguir apresenta as principais características do modelo burocrático de Weber.

Quadro síntese – Características do modelo burocrático – Max Weber
Caráter legal das normas e regulamentos
Caráter formal das comunicações
Divisão racional do trabalho
Impessoalidade
Hierarquia
Rotina
Meritocracia
Profissionalização
Especialização da administração
Previsibilidade

Fonte: Adaptado de Matias-Pereira (2018, p. 64).

## PROPOSTA:

Com base nos textos de suporte apresentados, elabore um texto dissertativo-argumentativo explicando as vantagens do modelo burocrático *weberiano* e a crítica trazida pela charge.

No verso desta página, há uma folha de rascunho de uso facultativo. Para a correção será utilizada, exclusivamente, a folha de resposta.

# NÃO DESTACAR

1
5
10
15
20
25
30

RASCUNHO  
REDAÇÃO

# GABARITO (RASCUNHO)

## LÍNGUA PORTUGUESA

01	A	B	C	D	E
02	A	B	C	D	E
03	A	B	C	D	E
04	A	B	C	D	E
05	A	B	C	D	E
06	A	B	C	D	E
07	A	B	C	D	E
08	A	B	C	D	E
09	A	B	C	D	E
10	A	B	C	D	E
11	A	B	C	D	E
12	A	B	C	D	E

## SISTEMAS E TECNOLOGIA DE INFORMAÇÃO

13	A	B	C	D	E
14	A	B	C	D	E
15	A	B	C	D	E
16	A	B	C	D	E
17	A	B	C	D	E
18	A	B	C	D	E
19	A	B	C	D	E
20	A	B	C	D	E
21	A	B	C	D	E
22	A	B	C	D	E

## ÉTICA NA ADMINISTRAÇÃO PÚBLICA

23	A	B	C	D	E
24	A	B	C	D	E
25	A	B	C	D	E
26	A	B	C	D	E
27	A	B	C	D	E

## CONHECIMENTOS GERAIS SOBRE O MUNICÍPIO

28	A	B	C	D	E
29	A	B	C	D	E
30	A	B	C	D	E
31	A	B	C	D	E
32	A	B	C	D	E
33	A	B	C	D	E

## NOÇÕES DE DIREITO (ADMINISTRATIVO E CONSTITUCIONAL)

34	A	B	C	D	E
35	A	B	C	D	E
36	A	B	C	D	E
37	A	B	C	D	E
38	A	B	C	D	E
39	A	B	C	D	E
40	A	B	C	D	E
41	A	B	C	D	E
42	A	B	C	D	E
43	A	B	C	D	E
44	A	B	C	D	E
45	A	B	C	D	E
46	A	B	C	D	E
47	A	B	C	D	E
48	A	B	C	D	E

## MATEMÁTICA E LÓGICA

49	A	B	C	D	E
50	A	B	C	D	E
51	A	B	C	D	E
52	A	B	C	D	E
53	A	B	C	D	E
54	A	B	C	D	E
55	A	B	C	D	E
56	A	B	C	D	E
57	A	B	C	D	E
58	A	B	C	D	E
59	A	B	C	D	E
60	A	B	C	D	E

***ATENÇÃO:***  
AGUARDE AUTORIZAÇÃO  
PARA VIRAR O CADERNO DE PROVA.