



Prefeitura Municipal de  
**Itatiaiuçu**

## PROCESSO SELETIVO PREFEITURA MUNICIPAL DE ITATIAIUÇU

EDITAL Nº 01, DE 16 DE NOVEMBRO DE 2023 E RETIFICAÇÕES

### PROVA PARA CURSOS DE NÍVEL MÉDIO: TÉCNICOS DE ELETROTÉCNICA E MECATRÔNICA

## INSTRUÇÕES GERAIS

1. A prova terá, no máximo, **4 (quatro) horas** de duração, incluído o tempo destinado à transcrição do gabarito na Folha de Respostas, único documento válido para correção.
2. O candidato deverá conferir os seus dados pessoais na Folha de Respostas, em especial seu nome e o número do documento de identidade.
3. Não haverá substituição da Folha de Respostas por erro do candidato ou por qualquer outro dano.
4. O candidato só poderá se retirar do recinto após **60 (sessenta) minutos**, contados a partir do efetivo início da prova.
5. Este caderno contém 30 questões de múltipla escolha, assim distribuídas:
  - Língua Portuguesa: 10 questões (numeradas de 01 a 10);
  - Matemática: 10 questões (numeradas de 11 a 20);
  - Conhecimentos Gerais: 10 questões (numeradas de 21 a 30).
6. Cada questão apresenta 4 alternativas, de (a) a (d). O candidato deverá lê-las, atentamente, antes de responder a elas.
7. Caso o Caderno não corresponda ao cargo de inscrição, esteja incompleto ou com defeito, o candidato deverá solicitar ao aplicador, durante os primeiros **20 minutos**, as providências cabíveis.
8. O candidato deverá entregar ao aplicador este Caderno de Provas e a Folha de Respostas.
9. O candidato passará o Gabarito para a Folha de Respostas, utilizando caneta esferográfica azul ou preta.

### ATENÇÃO: FOLHA DE RESPOSTAS SEM ASSINATURA NÃO TEM VALIDADE

A folha de respostas não deve ser dobrada, amassada ou rasurada

Nome do candidato

Por favor, abra somente quando autorizado.



O GABARITO E O CADERNO DE PROVAS SERÃO DIVULGADOS NO ENDEREÇO ELETRÔNICO:  
**CONCURSO.FUNDAÇAOCEFETMINAS.ORG.BR**



# LÍNGUA PORTUGUESA

LEIA O TEXTO A SEGUIR PARA RESPONDER ÀS QUESTÕES DE 01 A 10.

## TEXTO I

### IA exige competências de profissionais do futuro

Já parou para pensar como serão os próximos dez anos no mundo? Maior automatização e otimização de tarefas, sistemas cada vez mais precisos de detecção de fraudes e análise de riscos, tratamentos médicos personalizados, atendimento a demandas individuais no aprendizado de crianças.

Atravessando todas essas áreas, não importa se exatas, humanas ou biológicas, está a tecnologia. Mais precisamente a Inteligência Artificial, capaz de realizar ações que, normalmente, eram executadas por humanos. Embora inicialmente assustadora para alguns, ela é uma porta aberta para o futuro.

Centrada no desenvolvimento de sistemas e algoritmos projetados para aprender, raciocinar, tomar decisões e resolver problemas de maneira autônoma, ela utiliza técnicas como *machine learning* (aprendizado de máquina), redes neurais e processamento de linguagem natural.

Com essa revolução em curso, não é de se espantar que as carreiras passem por grandes mudanças, a começar pelas áreas de atuação e pela reorientação de escopo de trabalho. Algumas delas, por sinal, já estão em rota de transformação – basta pensar nas ferramentas de IA generativa, que criam soluções a partir de dados preexistentes, como *chatbots* online que oferecem recursos de texto de maneira cada vez mais humanizada.

Isso significa que, mesmo que a Inteligência Artificial ainda não tenha causado um impacto significativo em uma área específica, é indispensável ter atenção a ela e às transformações que ela exigirá para aqueles que estão ingressando no mercado de trabalho.

Desde já, esse novo mundo vai requerer o que especialistas chamam de *lifelong learning*, ou a mentalidade de aprendizado contínuo, em que parar de estudar não é uma opção. Com a velocidade na criação e no desenvolvimento da tecnologia, o profissional deverá estar atento para os caminhos que se abrem

e para as formações que serão necessárias para trilhá-los.

Também são imprescindíveis as habilidades comportamentais, as chamadas *soft skills*, que serão necessárias: grande potencial de adaptação e resiliência. Pensamento crítico, resolução de problemas complexos, criatividade, assertividade na comunicação e inteligência emocional serão imprescindíveis. Cada vez mais a capacidade de entender e trabalhar com Inteligência Artificial, assim como a de interpretar e utilizar dados, tomará espaço no desenvolvimento de carreiras.

Folha de São Paulo, Estúdio Folha, 22 jun. 2023, p. 2 (adaptado).

## QUESTÃO 01

Sobre o **TEXTO I**, assinale com (V) as afirmativas verdadeiras e com (F), as falsas.

- ( ) O autor, no início do texto, ao se dirigir ao interlocutor, usa uma estratégia argumentativa que confere ao discurso um tom memorialístico.
- ( ) Uma reflexão possível sobre o texto gira em torno do fato de que quem quiser avançar na carreira terá de aprender e se reciclar continuamente.
- ( ) Os estrangeirismos, no contexto em que aparecem, empobreceram o texto porque constituem puro modismo, razão pela qual não deveriam ser empregados.

A sequência correta é:

- a) F, V, F.
- b) F, F, V.
- c) V, V, F.
- d) V, F, V.

## QUESTÃO 02

Quanto ao gênero, o **TEXTO I** é um artigo de opinião porque

- a) visa promover o debate de ideias, razão pela qual constitui um texto argumentativo.
- b) facilita a troca de mensagens, com a finalidade de comunicar um assunto imprevisível.
- c) combina criticamente linguagem verbal e não verbal para retratar situações do dia a dia.
- d) busca refletir momentos pessoais do autor sobre suas vivências com registro de passagens.

### QUESTÃO 03

Avalie o que se informa acerca do processo de construção do **TEXTO I**.

I – O articulista, a partir do segundo parágrafo, inicia a apresentação de argumentos para defender seu ponto de vista.

II – O autor, do terceiro parágrafo até o final, dá progressão às suas opiniões, todavia sem manter conexão entre os parágrafos.

III – O último parágrafo traz um breve elenco de situações atitudinais necessárias na articulação entre Inteligência Artificial e mercado de trabalho.

Está correto **apenas** o que se afirma em:

- a) II.
- b) III.
- c) I e II.
- d) I e III.

### QUESTÃO 04

Sabendo-se que uma determinada palavra pode apresentar diferentes significados conforme o contexto em que for empregada, é correto afirmar que a frase que contém sentido figurado é:

- a) “...é indispensável ter atenção a ela e às transformações que ela exigirá...”
- b) “Embora inicialmente assustadora para alguns, ela é uma porta aberta para o futuro”.
- c) “Também são imprescindíveis as habilidades comportamentais, as chamadas *soft skills*...”
- d) “Com a velocidade na criação da tecnologia, o profissional deverá estar atento...”

### QUESTÃO 05

Leia o trecho do **TEXTO I** a seguir.

“Pensamento crítico, resolução de problemas complexos, criatividade, assertividade na comunicação e inteligência emocional serão imprescindíveis.”

No trecho destacado do **TEXTO I**, as vírgulas estão empregadas, **fundamentalmente**, para

- a) substituir os parênteses.
- b) sinalizar a ausência de verbos.
- c) isolar termos de sentidos opostos.
- d) separar palavras justapostas assindéticas.

### QUESTÃO 06

Em relação ao ponto de vista morfológico, considere o trecho transcrito do **TEXTO I** e complete as lacunas a seguir.

“Atravessando todas **essas** áreas, não importa se em exatas, humanas ou biológicas, está a tecnologia. Mais precisamente a Inteligência Artificial, capaz de realizar ações que, **normalmente**, eram executadas por humanos.

O termo “essas” é um \_\_\_\_\_ porque determina o substantivo junto do qual se encontra. Já a palavra “normalmente” pertence à classe de palavras denominada \_\_\_\_\_, pois modifica o sentido do verbo ao qual se refere.

A sequência que preenche correta e respectivamente as lacunas do texto é:

- a) adjetivo / conjunção
- b) adjetivo / interjeição
- c) pronome adjetivo / advérbio
- d) pronome adjetivo / preposição

## QUESTÃO 07

Leia o trecho do **TEXTO I** e considere também, para a análise, o conteúdo do **TEXTO II**.

“Com essa revolução em curso, não é de se espantar que as carreiras passem por grandes mudanças, a começar pelas áreas de atuação e pela reorientação de escopo de trabalho. Algumas delas, por sinal, já estão em rota de transformação...”

### TEXTO II



Disponível em: <https://br.ifunny.co/picture/voce-se-preocupa-com-o-avanco-da-inteligencia-artificial-nao-OZwmLuUh9>

Avalie o que se informa a respeito dos aspectos morfossintáticos destacados dos textos.

I - A expressão “algumas delas”, no trecho do **TEXTO I**, retoma o termo “carreiras”.

II - O emprego do pronome “se” na frase “não é de se espantar” (**TEXTO I**) é facultativo.

III - O que se afirma no **TEXTO II** sintetiza a principal reflexão contida no trecho do **TEXTO I**.

IV - A frase do primeiro balão da tirinha exemplifica um período simples, com oração absoluta.

V - Os verbos “passar” (**TEXTO I**) e “preocupar-se” (**TEXTO II**), gramaticalmente, regem preposições.

Está correto **apenas** o que se afirma em

- a) II e III.
- b) IV e V.
- c) I, II e V.
- d) I, III e IV.

## QUESTÃO 08

Na frase “...tomará espaço no desenvolvimento de carreiras...”, o substantivo “desenvolvimento” exige o termo “de carreiras” para completar seu sentido, em que a relação entre o nome e seu complemento é estabelecida pela presença da preposição “de”.

Em qual frase transcrita do **TEXTO I** o termo grifado exemplifica um caso de regência nominal semelhante?

- a) “atendimento a demandas individuais”
- b) “tenha causado um impacto significativo”
- c) “especialistas chamam de lifelong learning”
- d) “basta pensar nas ferramentas de IA generativa”

## QUESTÃO 09

“Cada vez mais a capacidade de entender e trabalhar com Inteligência Artificial, assim como a de interpretar e utilizar dados, tomará espaço no desenvolvimento de carreiras”.

Na passagem transcrita do **TEXTO I**, o termo destacado contribui para a coesão textual porque estabelece, entre as orações, uma relação de

- a) condição.
- b) concessão.
- c) consecução.
- d) comparação.

## QUESTÃO 10

### TEXTO III



Disponível em: <https://arvoredasletras.com.br/2018/10/13/mentiroso-profissional-quem/>

No título do **TEXTO I**, “**IA exige competências de profissionais do futuro**”, a palavra “profissional” diz respeito àquela pessoa que realiza e exerce uma atividade por profissão. Já no **TEXTO III**, essa mesma palavra foi empregada de forma pejorativa, caracterizando o especialista numa atividade que não é tida como trabalho.

Nesse caso, o termo “profissional” apresentou mais de uma significação.

A esse fato linguístico dá-se o nome de

- a) sinonímia.
- b) antonímia.
- c) denotação.
- d) polissemia.

## MATEMÁTICA

### QUESTÃO 11

A metade de  $8^{20} + 4^{30}$  é igual a

- a)  $2^{30}$
- b)  $2^{60}$
- c)  $8^{10} + 4^{15}$
- d)  $4^{20} + 2^{30}$

### QUESTÃO 12

Sendo  $a$  e  $b$  números naturais, com  $a \neq b$ , considere a expressão

$$\frac{(a - b)^2}{a^2 - b^2}$$

Assim, o resultado da simplificação dessa expressão é igual a

- a)  $\frac{a-b}{a+b}$
- b)  $\frac{a+b}{a-b}$
- c)  $\frac{2ab}{a-b}$
- d)  $\frac{ab}{a+b}$

### QUESTÃO 13

Alfredo decidiu comprar um livro em um site de compras usando seu cartão de crédito. Ao pesquisar quanto iria gastar, observou que o valor da compra era de R\$ 76,00, já incluídos os R\$ 21,00 correspondentes ao valor do frete. No momento de finalizar a transação, ele constatou que, caso o pagamento fosse feito por meio de Pix em vez do cartão de crédito, ele ganharia um desconto de 10% no valor do livro, sendo que o valor do frete continuaria o mesmo.

Desse modo, caso Alfredo faça o pagamento utilizando o Pix, o valor total da compra será de

- a) R\$ 49,50.
- b) R\$ 55,00.
- c) R\$ 68,40.
- d) R\$ 70,50.

### QUESTÃO 14

Considere as parábolas apresentadas nas figuras a seguir.

FIGURA I

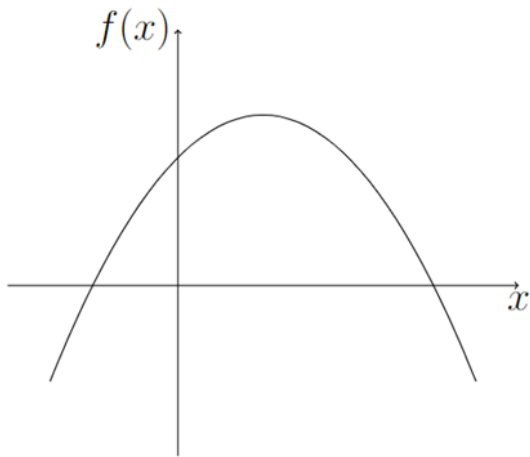


FIGURA II

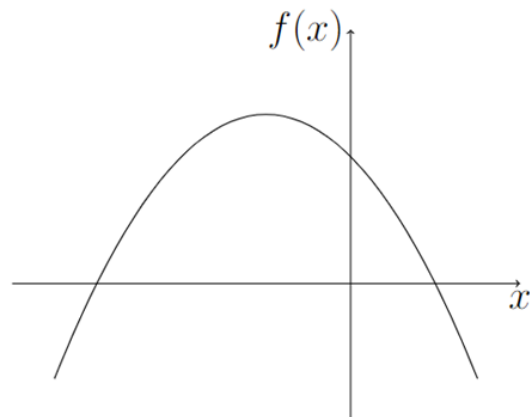


FIGURA III

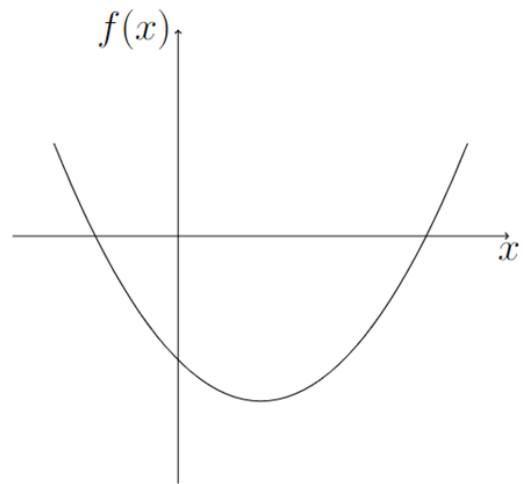
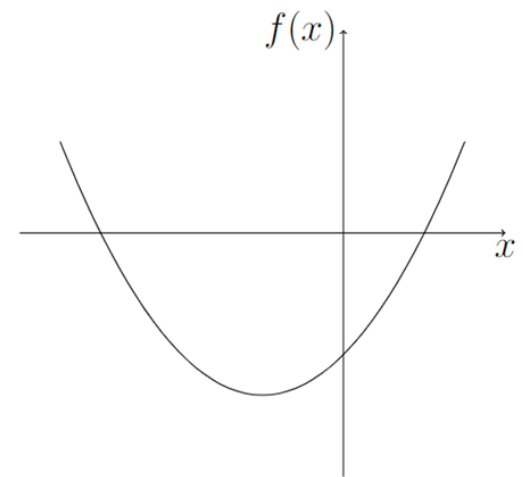


FIGURA IV



Dessas figuras, a que representa o esboço do gráfico da função  $f(x) = x^2 - 2x - 3$  é a figura

- a) I.
- b) II.
- c) III.
- d) IV.

### QUESTÃO 15

Considere quatro medidas de comprimento X, Y, Z e W, tais que:

- X corresponde a 8% de 2 km;
- Y corresponde a 30 vezes a medida de 500 cm;
- Z corresponde a  $\frac{3}{8}$  de 320.000 mm;
- W corresponde à terça parte de 420 m.

Desse modo, a maior das medidas de comprimento apresentadas é:

- a) X.
- b) Y.
- c) Z.
- d) W.

### QUESTÃO 16

Sejam A, B e C conjuntos com 10, 12 e 9 elementos, respectivamente. Assim, a quantidade máxima de elementos do conjunto  $(A \cap B) - C$  é igual a

- a) 10.
- b) 12.
- c) 21.
- d) 22.

### QUESTÃO 17

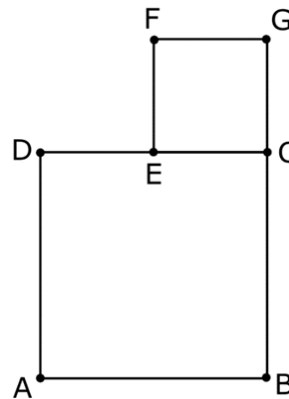
Roberto e Marina são os primeiros a entrar em uma sessão de cinema e decidem sentar-se em uma fileira contendo cinco cadeiras, alinhadas e consecutivas.

Assim, o número de maneiras diferentes que eles podem ocupar dois dos lugares nessa fileira, de modo que fiquem um ao lado do outro, é igual a

- a) 4.
- b) 5.
- c) 8.
- d) 10.

### QUESTÃO 18

Observe a figura.



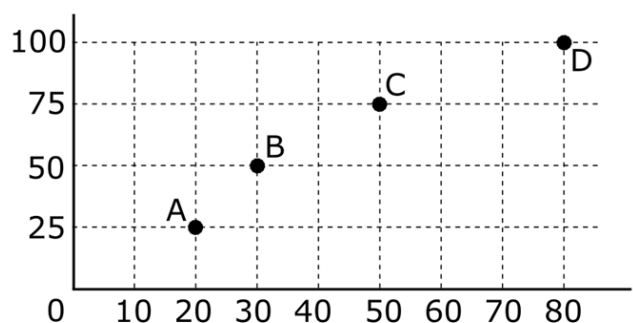
Nessa figura, ABCD e CEF são quadrados e E é ponto médio do lado CD.

Se a medida de AB é de 2 cm, então a medida do segmento BF, em cm, é igual a

- a)  $\sqrt{5}$ .
- b)  $\sqrt{10}$ .
- c)  $2\sqrt{5}$ .
- d)  $2\sqrt{10}$ .

### QUESTÃO 19

Uma loja de chocolates vende bombons em quatro diferentes caixas: A, B, C e D. Em todas as caixas há um só tipo de bombom e o que diferencia as caixas é apenas a quantidade de bombons e o preço de cada uma. O gráfico a seguir apresenta, para cada caixa, a quantidade de bombons no eixo horizontal e o preço, em reais, no eixo vertical.



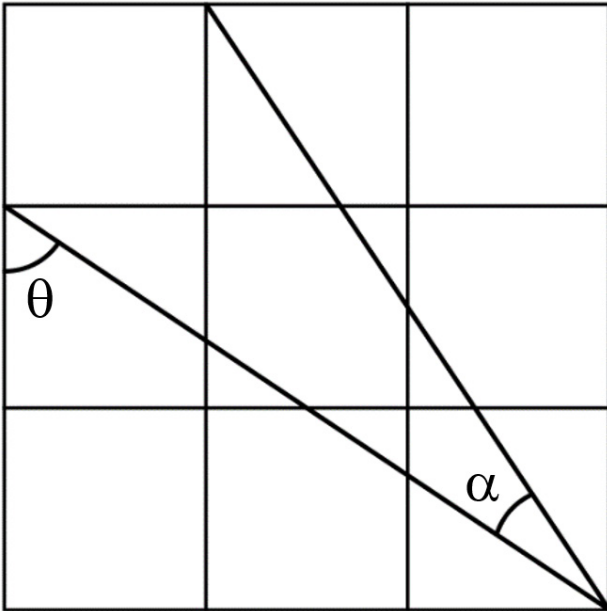
Assim, o valor médio de cada bombom é maior na caixa

- a) A.
- b) B.
- c) C.
- d) D.



## QUESTÃO 20

Observe a figura.



A malha da figura é formada por nove quadrados.

Sobre as medidas dos ângulos  $\alpha$  e  $\theta$ , é correto afirmar que

- a)  $\alpha + \theta = 90^\circ$
- b)  $\alpha + 2\theta = 90^\circ$
- c)  $\alpha + 90^\circ = \theta$
- d)  $\alpha + 90^\circ = 2\theta$

## CONHECIMENTOS GERAIS

### QUESTÃO 21

Na Lei Orgânica do Município de Itatiaiuçu lê-se: “Art. 7º. A sede do Município é a cidade de Itatiaiuçu, com seus limites definidos em lei.”

Fonte: LEI ORGÂNICA DO MUNICÍPIO DE ITATIAIUÇU. Estado de Minas Gerais. Câmara Municipal de Itatiaiuçu, 2016. Disponível em < <https://www.itatiaiuçu.mg.gov.br/legislacao/tipo/lei-organica/12> > Acesso em 13 nov. 2023.

Quais são os municípios limítrofes a Itatiaiuçu?

- a) Brumadinho, Ibirité, Itaúna, Nova Lima, Rio Manso, Belo Vale e Itaguara.
- b) Rio Manso, Belo Vale, Igarapé, Carmo do Cajuru, Betim, Juatuba e Rio Acima.
- c) São Joaquim de Bicas, Bonfim, Sarzedo, Mateus Leme, Juatuba e Pará de Minas.
- d) Igarapé, Mateus Leme, Itaúna, Carmo do Cajuru, Itaguara, Rio Manso e Brumadinho.

### QUESTÃO 22

“Itatiaiuçu formou-se em um território habitado por índios Cataguases e outras etnias, que acabaram sendo eliminados com a chegada dos bandeirantes. O seu nome deriva de designação indígena tupi, com o significado “grande pedra dentada”: *Ita* = pedra + *tiaia* = dentada + *açu* = grande.”

Fonte: RODRIGUES, Vandercy Candido **O Kennedy**: um bairro de migrantes no município de pequeno porte Itatiaiuçu, Minas Gerais. Dissertação (Mestrado). Pontifícia Universidade Católica de Minas Gerais. Programa de Pós-Graduação em Ciências Sociais. Belo Horizonte, 2020, p.30.

Um patrimônio ambiental da região e um ponto turístico do município estão representados, respectivamente, por

- a) Pedra Grande e cachoeiras.
- b) Pico do Itacolomi e riachos.
- c) Topo do Açú e estradas rurais.
- d) Rocha Dentada e rodovias federais.

## QUESTÃO 23

Observe a tabela a seguir.

Município de Itatiaiuçu: distribuição de mão de obra empregada por setor

Setor	2005	2011	2015	Variação (2005 a 2015)
Minerário	759	2546	1396	83,93%
Construção Civil	39	412	4	-89,74%
Comércio atacadista/varejista	169	322	332	96,45%
Agricultura	83	87	72	-13,25%

Fonte: *Elaboração do autor a partir de dados do PDDI-RMBH (2017), p. 125.*

Fonte: RODRIGUES, Vandercy Candido **O Kennedy**: um bairro de migrantes no município de pequeno porte Itatiaiuçu, Minas Gerais. Dissertação (Mestrado). Pontifícia Universidade Católica de Minas Gerais. Programa de Pós-Graduação em Ciências Sociais. Belo Horizonte, 2020, p.33.

Dentre os setores da economia do Município de Itatiaiuçu, destacam-se, na absorção de mão de obra,

- a) a finança e o turismo.
- b) a agricultura e a indústria.
- c) a mineração e o comércio.
- d) a pecuária e a construção civil.

## QUESTÃO 24

“Art. 173. Constituem patrimônio cultural do Município os bens de natureza material e imaterial, tomados individualmente ou em conjunto, que contenham referência à identidade, à ação e à memória do povo itatiaiuçuense, entre os quais se incluem:

I – as formas de expressão;

II – os modos de criar, fazer e viver;

III – as criações tecnológicas, científicas e artísticas;

IV – as obras, os objetos, os documentos, as edificações e outros espaços destinados a manifestações artísticas e culturais;

V – os conjuntos urbanos e os sítios de valor histórico, artístico, paisagístico, arqueológico, paleontológico, ecológico e científico.”

Fonte: LEI ORGÂNICA DO MUNICÍPIO DE ITATIAIUÇU. Estado de Minas Gerais. Câmara Municipal de Itatiaiuçu, 2016. Disponível em < <https://www.itatiaiuçu.mg.gov.br/legislacao/tipo/lei-organica/12> > Acesso em 13 nov. 2023.

Uma das principais edificações histórico-culturais do Município em questão é a

- a) Feira Livre.
- b) Festa Gastronômica.
- c) Cachoeira dos Chaves.
- d) Igreja Matriz de São Sebastião.

## QUESTÃO 25

Conforme informa Valdecy Candido Rodrigues, na dissertação “**O Kennedy**: um bairro de migrantes no município de pequeno porte, Itatiaiuçu”, a atividade agrícola local é caracterizada pela produção de verduras, legumes, tubérculos e frutas, sendo

- a) a maior parte comercializada na CEASA (Centrais de Abastecimento de Minas Gerais), localizada no município de Contagem.
- b) a maior parte exportada pela USIMINAS (Usinas Siderúrgicas de Minas Gerais), situada no município de Belo Horizonte.
- c) a menor parte comprada pela EMATER (Empresa de Assistência Técnica e Extensão Rural de Minas Gerais), sediada em Brumadinho.
- d) a menor parte negociada na CEMIG (Companhia Energética de Minas Gerais), instalada em Juatuba.

## QUESTÃO 26

Observe a tabela a seguir.

**Município de Itatiaiuçu: população total, por situação de domicílio**

População	População (1991)	% do Total (1991)	População (2000)	% do Total (2000)	População (2010)	% do Total (2010)
Total	7.366	100,00	8.517	100,00	9.928	100,00
Urbana	3.735	50,71	5.039	59,16	6.221	62,66
Rural	3.631	49,29	3.478	40,84	3.707	37,34
Feminina	3.563	48,37	4.180	49,08	4.885	49,20
Masculina	3.803	51,63	4.337	50,92	5.043	50,80
Menos de 15 anos	2.549	34,60	2.538	29,80	2.420	24,38
15 a 64 anos	4.442	60,31	5.478	64,32	6.751	68,00
Acima de 64 anos	3,75	5,09	5,01	5,88	7,57	7,62

*Fonte: Elaboração do autor a partir de dados do IBGE (Censos demográficos de 1991, 2000 e 2010)*

Fonte: RODRIGUES, Vandercy Candido **O Kennedy**: um bairro de migrantes no município de pequeno porte Itatiaiuçu, Minas Gerais. Dissertação (Mestrado). Pontifícia Universidade Católica de Minas Gerais. Programa de Pós-Graduação em Ciências Sociais. Belo Horizonte, 2020, p.32.

Os dados apresentados revelam que, ao longo do período em questão, a população

- a) urbana tornou-se maioria.
- b) masculina tornou-se minoria.
- c) de 15 a 64 anos tornou-se minoria.
- d) acima de 64 anos tornou-se maioria.

## QUESTÃO 27

De acordo com a lei maior do Município de Itatiaiuçu, ou seja, a Lei Orgânica Municipal, em seu Artigo 160,

“Todos têm direito ao meio ambiente harmônico, bem de uso comum do povo e essencial à saudável qualidade de vida, impondo-se ao Poder Público e à coletividade o dever de defendê-lo, preservá-lo e manter as plenas condições de seus processos vitais para as gerações presentes e futuras.”

Fonte: LEI ORGÂNICA DO MUNICÍPIO DE ITATIAIUÇU. Estado de Minas Gerais. Câmara Municipal de Itatiaiuçu, 2016. Disponível em < <https://www.itatiaiuçu.mg.gov.br/legislacao/tipo/lei-organica/12> > Acesso em 13 nov. 2023.

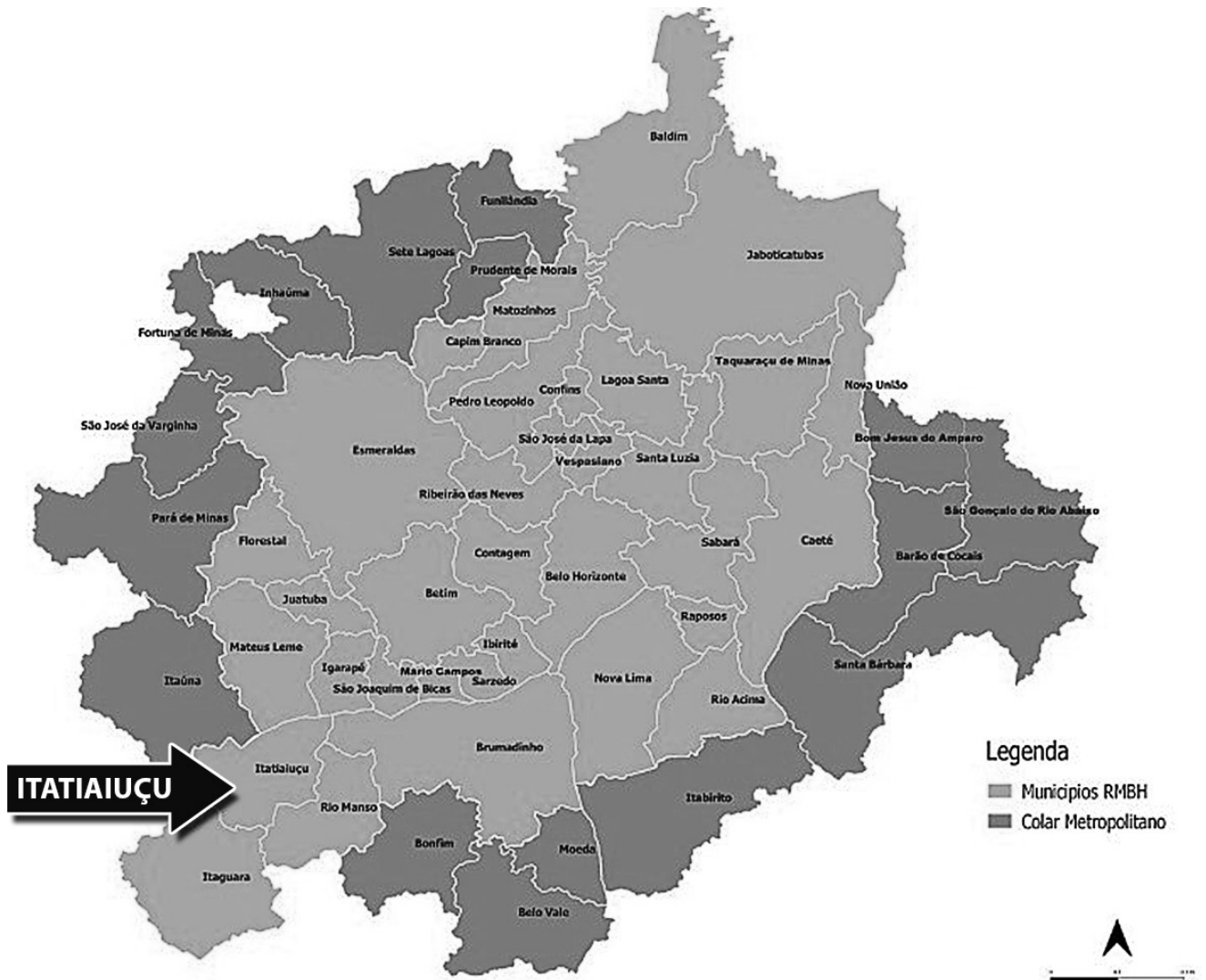
Para garantir a efetividade desse direito, cabe ao Poder Público, entre outras atribuições,

- a) estimular e promover o desflorestamento e a poluição dos recursos hídricos.
- b) criar parques, reservas, estações ecológicas e outras unidades de conservação.
- c) autorizar todo e qualquer pedido de licenciamento para execução de obras que degradem o meio ambiente.
- d) promover ampla retirada de árvores dos logradouros públicos, substituindo-as por blocos de concreto e asfalto.

## QUESTÃO 28

Observe o mapa a seguir.

### Região Metropolitana de Belo Horizonte (RMBH)



#### Legenda:

**Em tom mais claro:** Municípios da Região Metropolitana de Belo Horizonte.

**Em tom mais escuro:** Colar Metropolitano.

Fonte: AGÊNCIA DE DESENVOLVIMENTO DA REGIÃO METROPOLITANA DE BELO HORIZONTE. Disponível em <http://www.agenciarmbh.mg.gov.br/mapa-conheca-os-municipios/> Acesso em 14 nov. 2023. RODRIGUES, Vandercy Candido O Kennedy: um bairro de migrantes no município de pequeno porte Itatiaiuçu, Minas Gerais. Dissertação (Mestrado). Pontifícia Universidade Católica de Minas Gerais. Programa de Pós-Graduação em Ciências Sociais. Belo Horizonte, 2020, p.29.

Considerando-se o mapa e as ligações de Itatiaiuçu com a região, é correto afirmar que este Município

- a) não pertence à Região Metropolitana de Belo Horizonte, tendo como principais ferrovias de acesso a Vitória-Minas e a Centro-Atlântica.
- b) pertence à Região Metropolitana de Belo Horizonte, tendo como principais hidrovias de acesso o rio São João e o rio Veloso.
- c) pertence à Região Metropolitana de Belo Horizonte, tendo como principais rodovias de acesso a BR - 381 e a MG - 431.
- d) não pertence à Região Metropolitana de Belo Horizonte, tendo como principais ciclovias a Itaguara e a Rio Manso.

## QUESTÃO 29

Conforme informação disponível no site da Prefeitura Municipal de Itatiaiuçu, é dever da Secretaria Municipal de Cultura, dentre outras competências,

- a) esquecer e desvalorizar a história, a memória e as personalidades locais e regionais.
- b) incentivar e apoiar as manifestações culturais e as festividades tradicionais locais, nas diversas comunidades do Município.
- c) dificultar o pleno exercício e o acesso às fontes de cultura, bem como as manifestações tradicionais, folclóricas, históricas e populares.
- d) excluir as manifestações das culturas populares, indígenas e afro-brasileiras e as de outros grupos participantes da história do Município.

## QUESTÃO 30

“Apesar dos relatos dos moradores do Kennedy sobre o preconceito, suas percepções acerca da cidade são muito positivas. Sentem muita gratidão por terem sido acolhidos e tido a oportunidade de se reorganizarem econômica e socialmente. Consideram-na especial, constituída de pessoas simples e solidárias que, em sua maioria, preocupam-se em amparar e apoiar quem chega e se encontra em situação de vulnerabilidade.”

Fonte: RODRIGUES, Vandercy Candido **O Kennedy**: um bairro de migrantes no município de pequeno porte Itatiaiuçu, Minas Gerais. Dissertação (Mestrado). Pontifícia Universidade Católica de Minas Gerais. Programa de Pós-Graduação em Ciências Sociais. Belo Horizonte, 2020, p.52.

O texto refere-se a um bairro de Itatiaiuçu formado e desenvolvido por

- a) trabalhadores, migrantes, muitos dos quais negros e de baixa renda.
- b) industriais, estrangeiros, muitos dos quais italianos e de renda elevada.
- c) empresários, do próprio local, muitos dos quais indígenas e de alta renda.
- d) fazendeiros, da própria região, muitos dos quais brancos e de renda média.

## GABARITO (RASCUNHO)

### LÍNGUA PORTUGUESA

01	A	B	C	D
02	A	B	C	D
03	A	B	C	D
04	A	B	C	D
05	A	B	C	D
06	A	B	C	D
07	A	B	C	D
08	A	B	C	D
09	A	B	C	D
10	A	B	C	D

### MATEMÁTICA

11	A	B	C	D
12	A	B	C	D
13	A	B	C	D
14	A	B	C	D
15	A	B	C	D
16	A	B	C	D
17	A	B	C	D
18	A	B	C	D
19	A	B	C	D
20	A	B	C	D

### CONHECIMENTOS GERAIS

21	A	B	C	D
22	A	B	C	D
23	A	B	C	D
24	A	B	C	D
25	A	B	C	D
26	A	B	C	D
27	A	B	C	D
28	A	B	C	D
29	A	B	C	D
30	A	B	C	D

***ATENÇÃO:***  
AGUARDE AUTORIZAÇÃO  
PARA VIRAR O CADERNO DE PROVA.